
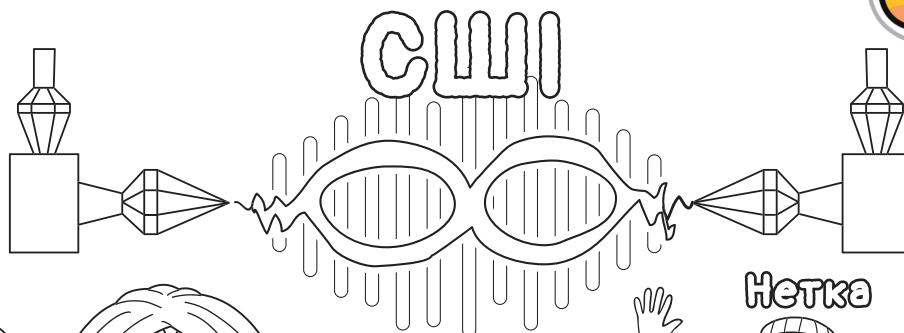
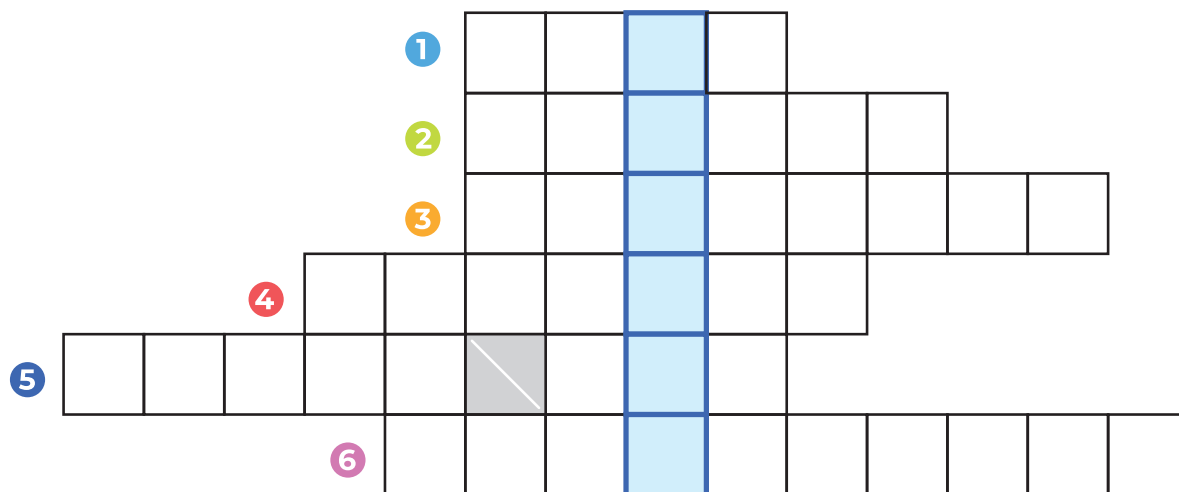


Здається, Крадун поцупив колір з цього плакату. Розфарбуй плакат.
Познайомся з командою Мережуків!

Мережуки.орг



Кожен справжній Мережук дбає в інтернеті про свою приватність.
 Чи знаєте ви, що може у цьому допомогти?
 Система Штучного Інтелекту сховала відповідь у кросворді...



- 1 Дівчинка-мережук, яка любить програмування.
- 2 Мережа, який краде інформацію та особисті дані.
- 3 Хто відповідальний за зло в інтернеті?
- 4 Робот, який допомагає Мережукам.
- 5 Володар Мережахів.
- 6 Мережах, що розносить інтернетом нісетітниці.

Відповідь:

Розфарбуй картинку



Нетробе склав список людей, до яких можна звернутися по допомогу в разі виникнення загрозової ситуації в інтернеті. На жаль, тут похазяйнував Белькотяка, і все перемішалось. Знайдіть слова, що приховані по вертикалі та горизонталі.


Ї	П	К	О	Ь	И	Ь	В	Ь	Ґ	Л	Р	О	Ф	П	А
В	О	П	О	Н	Л	Ю	Ч	І	Ц	Е	Х	П	Д	Д	О
Р	М	О	Ж	Б	Р	А	Т	Ц	П	А	Є	І	М	Я	М
М	Р	А	М	А	М	А	М	І	Ю	Ш	У	К	Ц	Д	М
И	С	Т	О	Б	В	І	І	К	Р	О	Ч	У	А	Ь	Д
П	Е	Р	А	У	Ч	Т	Я	А	Й	Д	И	Н	О	К	Ж
Е	С	М	М	С	Т	А	В	В	Т	А	Т	К	Л	О	І
Д	Т	П	В	Я	В	Т	Ж	Ш	І	Х	Е	О	Ї	И	С
А	Р	Л	В	И	Х	О	В	А	Т	Е	Л	Ь	К	А	Г
М	А	І	Й	Л	Є	Д	П	К	К	Л	Ь	А	П	А	У
Т	В	А	К	Н	О	Л	Д	Є	А	Ч	Ї	И	А	Н	Ц
Г	Й	Ц	Д	І	Д	У	С	Ь	С	Ш	З	Р	О	Р	Й

СШІ хоче повідомити дітям важливий номер телефону. Вона зашифрувала його так, щоб про нього не дізналися Мережахи. Розв'яжи рівняння і дізнайся номер телефону довіри для дітей та молоді.

$$6 - 5 = \square$$

$$4 - 3 = \square$$

$$3 + 3 = \square$$



$$4 - 3 = \square$$

$$7 - 6 = \square$$

$$0 + 1 = \square$$

Відповідь:

Нетробе склав список людей, до яких можна звернутися по допомогу в разі виникнення загрозової ситуації в інтернеті. На жаль, тут похазяйнував Белькотяка, і все перемішалось. Знайдіть слова, що приховані по вертикалі та горизонталі.

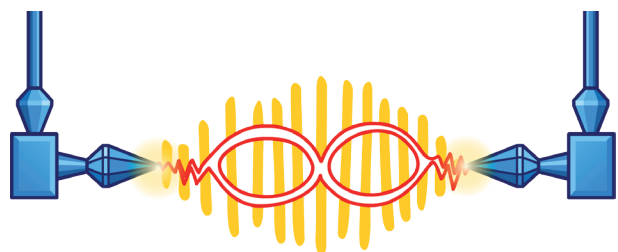
Ї	П	К	О	Ь	И	Ь	В	Ь	Ґ	Л	Р	О	Ф	П	А
В	О	П	О	Н	Л	Ю	Ч	І	Ц	Е	Х	П	Д	Д	О
Р	М	О	Ж	Б	Р	А	Т	Ц	П	А	Є	І	М	Я	М
М	Р	А	М	А	М	А	М	І	Ю	Ш	У	К	Ц	Д	М
И	С	Т	О	Б	В	І	І	К	Р	О	Ч	У	А	Ь	Д
П	Е	Р	А	У	Ч	Т	Я	А	Й	Д	И	Н	О	К	Ж
Е	С	М	М	С	Т	А	В	В	Т	А	Т	К	Л	О	І
Д	Т	П	В	Я	В	Т	Ж	Ш	І	Х	Е	О	Ї	И	С
А	Р	Л	В	И	Х	О	В	А	Т	Е	Л	Ь	К	А	Г
М	А	І	Й	Л	Є	Д	П	К	К	Л	Ь	А	П	А	У
Т	В	А	К	Н	О	Л	Д	Є	А	Ч	Ї	И	А	Н	Ц
Г	Й	Ц	Д	І	Д	У	С	Ь	С	Ш	З	Р	О	Р	Й

СШІ хоче повідомити дітям важливий номер телефону. Вона зашифрувала його так, щоб про нього не дізналися Мережахи. Розв'яжи рівняння і дізнайся номер телефону довіри для дітей та молоді.

$$95 - 94 = \square$$

$$18 - 17 = \square$$

$$20 - 14 = \square$$



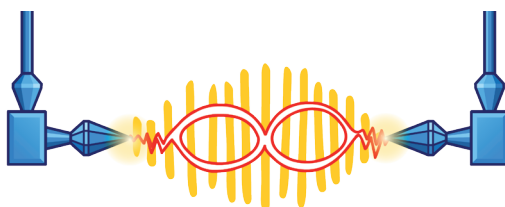


$$68 - 67 = \square$$

$$12 - 11 = \square$$

$$42 - 41 = \square$$

Відповідь:

Інтернет — це дуже захопливе місце, але треба знати, як уникати Мережахів.
А ви знаєте, як? Подолайте лабіринт разом з Мережуками та зустріньтеся із СШІ.
Тримайтеся подалі від Мережахів.



Розріжте малюнок по пунктирних лініях і складіть із отриманих пазлів плакат.
Прочитайте гасла на ньому.



Мережукове Мемо. Дізнайтеся про Гаджетові Правила Мережуків. Виріжте картинки і подивіться, скільки пар ви зможете зібрати.



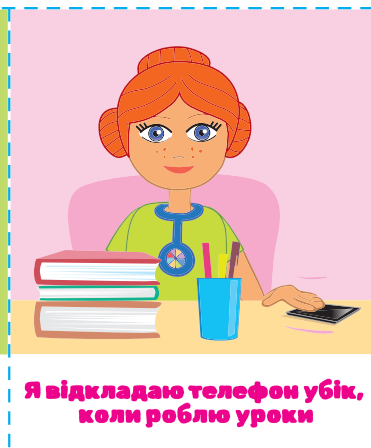
Я обмежую свій час користування гаджетами



Я не користуюся гаджетами перед сном



Я не користуюся гаджетами, коли їм




Я відкладаю телефон убік, коли роблю уроки



Я активно проводжу час



Я граюся з іншими дітьми без гаджетів



Я обмежую свій час користування гаджетами



Я не користуюся гаджетами перед сном



Я не користуюся гаджетами, коли їм



Я відкладаю телефон убік, коли роблю уроки



Я активно проводжу час



Я граюся з іншими дітьми без гаджетів

